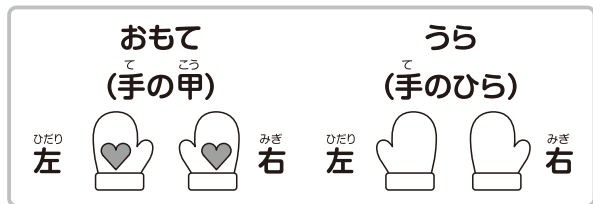


しょうがく 1ねんせい の
 さん すう 算数パズル王国 おう こく
 ジュニア

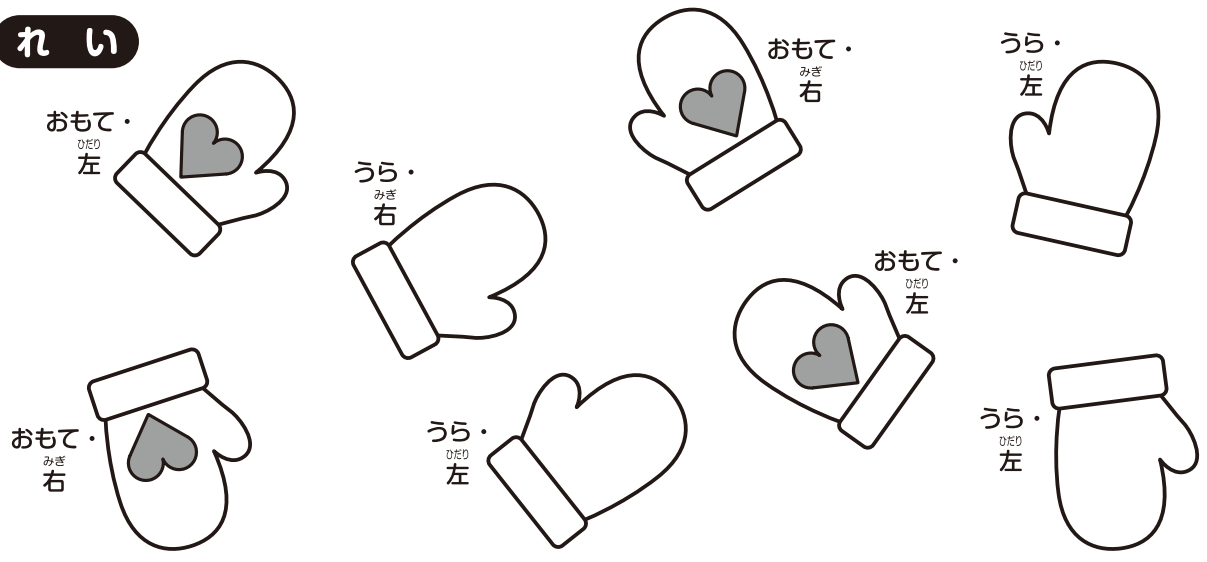
だい 193かい 回 ミトン ミトン

おしろでは みんなで プレゼントの ミトンを
 つくっています。ミトンは 左手も 右手も
 おもてに ♥が ついています。



もんだい 1 左手と 右手の ミトンの 数が あいしません。
 左と 右の どちらが 何まい たりませんか。○には 左・右の
 どちらが たりないかを、□には 何まい たりないかを
 かきましょう。

れい



ひだりて 左手は おもてが
 2まい、うらが 3まいで
 あわせて 5まい。



みぎて 右手は おもてが
 2まい、うらが 1まいで
 あわせて 3まい。



みぎて 右手が **2** まい たりません。





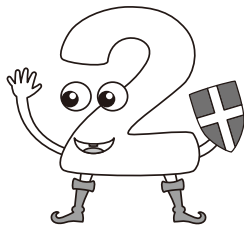

おうさま

王様からひとこと

今回は、ミトンの組み合わせを考える問題です。左右の区別に混乱しないように気をつけましょう。



(1)



て手が



まい たりません。

もんだい 2 4くみの ミトンが ばらばらに なっています。

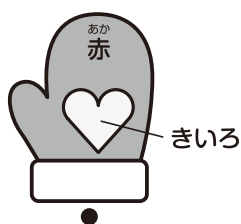


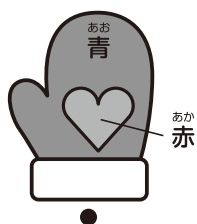
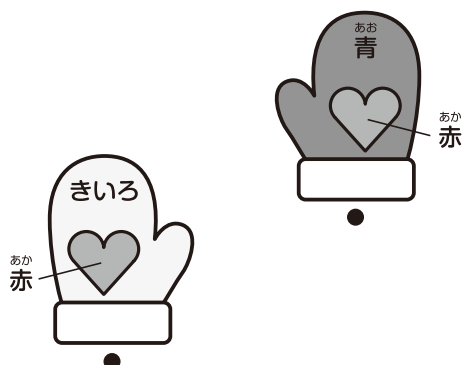


くみあわせの きまり を よんで、くみになる ミトンの

• どうしを 線で つなぎましょう。

くみあわせの きまり

- ① ミトンは 赤・きいろ・みどり・青の 4つの 色が あります。
- ② ♡は 赤・きいろの 2つの 色が あります。
- ③ ミトンは 左右で ちがう 色に します。
- ④ ♡は 左右で 同じ 色に します。

ミトンは 左右で ちがう 色を くみあわせるのよ。



ミトンと ♡に 同じ 色を ぬって かんがえましょう。



もんだい 3 5くみの ミトンが ばらばらに なっています。


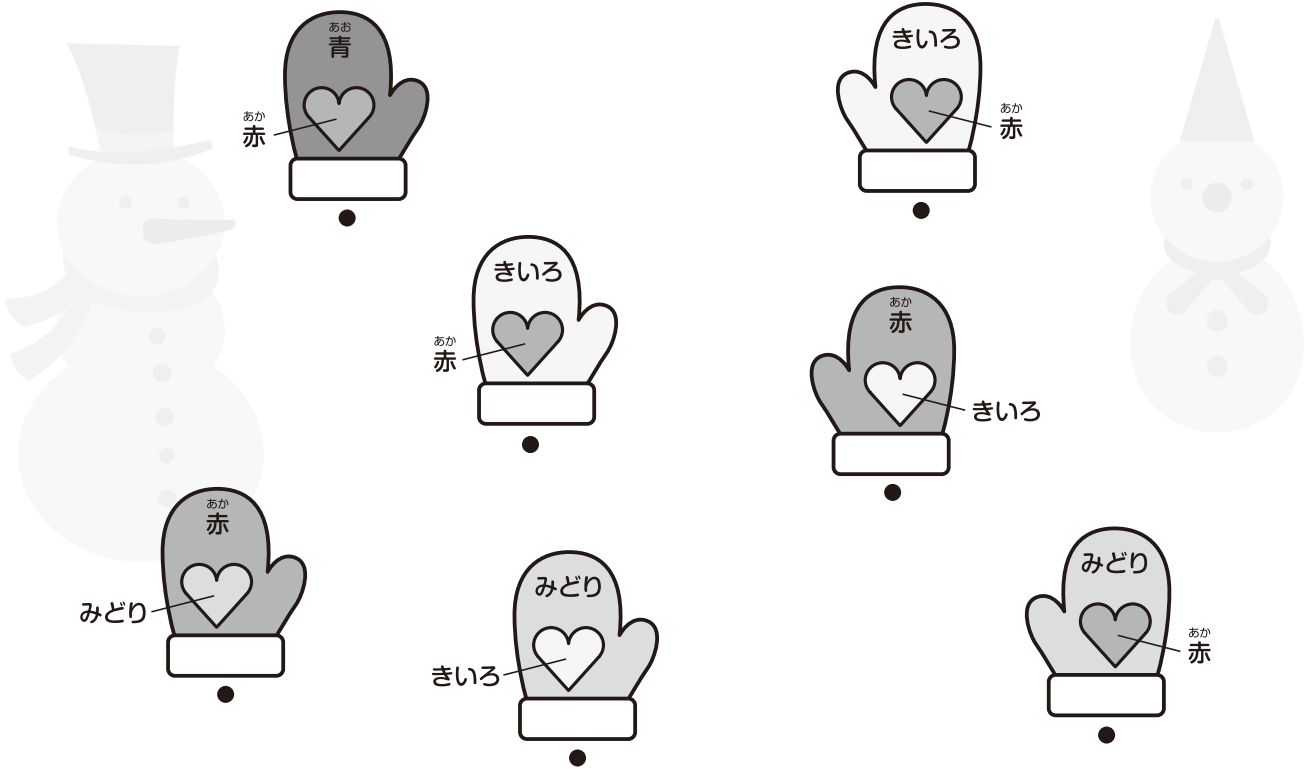

くみあわせの きまり を よんで、くみになる ミトンの

• どうしを 線で つなぎましょう。

くみあわせの きまり

- ① ミトンは 赤・きいろ・みどり・青の 4つの 色が あります。
- ② ♡は 赤・きいろ・みどりの 3つの 色が あります。
- ③ ミトンは 左右で ちがう 色に します。
- ④ ♡は 左右で 同じ 色に します。
- ⑤ ミトンと ♡は ちがう 色に なっています。

うらに なっている
ミトンも あるね。




この ミトンの
おもてに ある ♡は
みどりでは ないよ。

もんだい 1

(1)



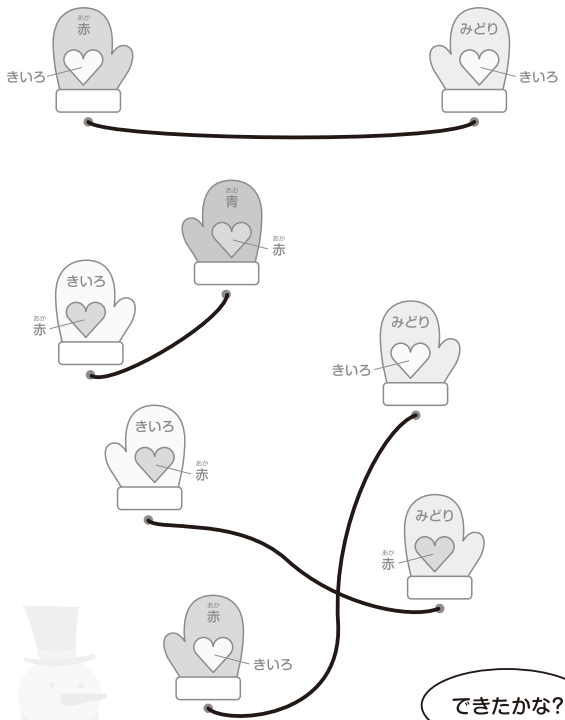
かぞ
数えてみると
こう なるね。



	おもて	うら	ごう けい 合計
ひだり 左	3	4	7
みぎ 右	5	3	8

ひだり
左 て 手が 1 まい たりません。

もんだい 2



もんだい 3

