

小学1~3年生の 算数パズル王国 ジュニア

第192回 2025年は へび年

みんなは おしるに おもちゃの へびを かざっています。

ぬりかたの ルール に したがって、数の 書かれた へびの 体に 色を ぬりましょう。

ぬりかたの ルール

- ① へびの 体には 1から 25までの 数が じゅんばんに 書いてあります。
- ② 王さまは みんなに、ぬった 場所の 数の 合計が いくつに なれば よいかを めいれいします。
- ③ 1つの めいれいに こたえて 色を ぬる 場所は、すべて つづいていなければ なりません。

もんだい 1 が 2人に 同じ めいれいを しました。


□ に 当てはまる 数を 書きましょう。また、めいれいに 合うように へびの 体の 数が 書かれた 場所を ぬりましょう。

れい

合計が 21 に なるように ぬること!



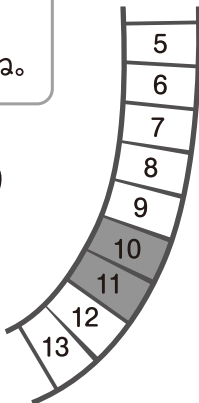

つづく 2つの 数を ぬりました。



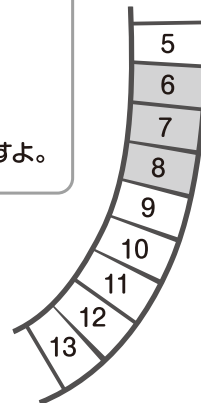
つづく 3つの 数を ぬりました。



$10+11=21$ で 合計は 21だね。




つづく 3つの 数の 合計が 21に なる 場所を さがすよ。



おうさま

王様からひとこと

今回は、連続する数の合計を考える問題です。いろいろと試しながら、規則性を見つけていきましょう。



(1)


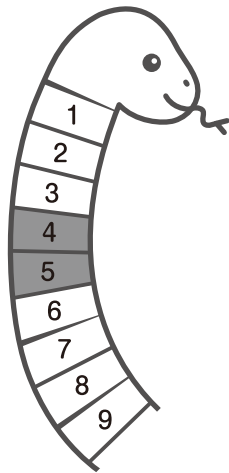

ころうけい
合計が に
なるようにぬること!



つづく 2つの
かず
数をぬりました。




つづく 3つの
かず
数をぬりました。



(2)

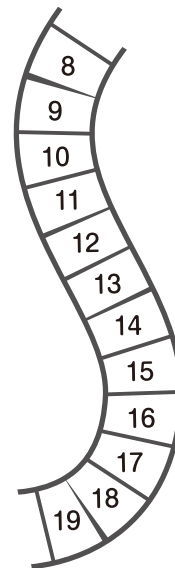
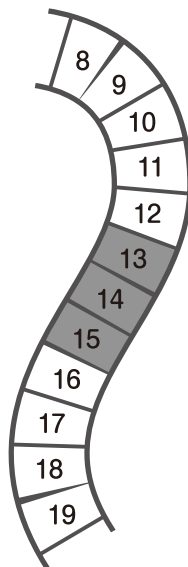

ころうけい
合計が に
なるようにぬること!



つづく 3つの
かず
数をぬりました。

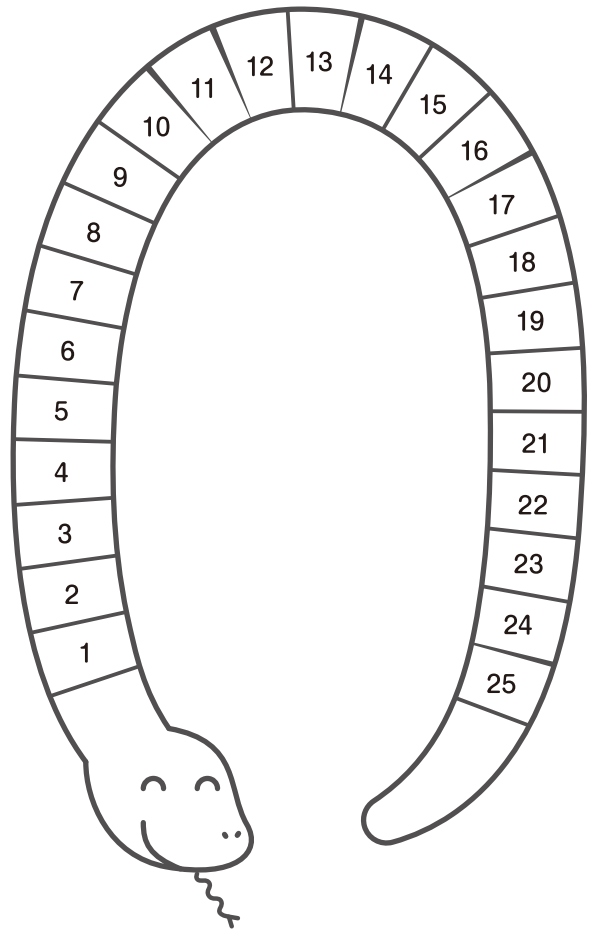
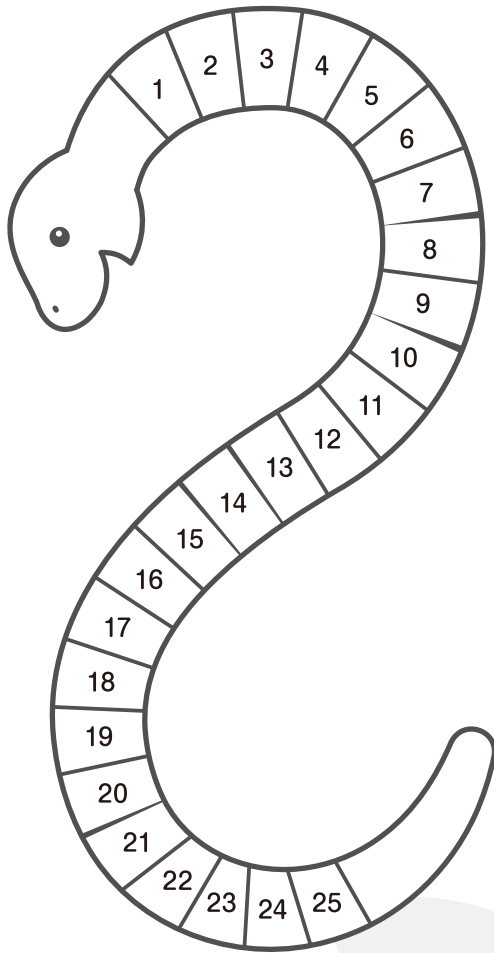



つづく 4つの
かず
数をぬりました。



もんだい 2 が 5つの めいれいを出しました。
 めいれいに 合うように ヘビの 体の 数が 書かれた 場所を
 ぬりましょう。


合計が 15 33 45 66 90 になるように ぬること!

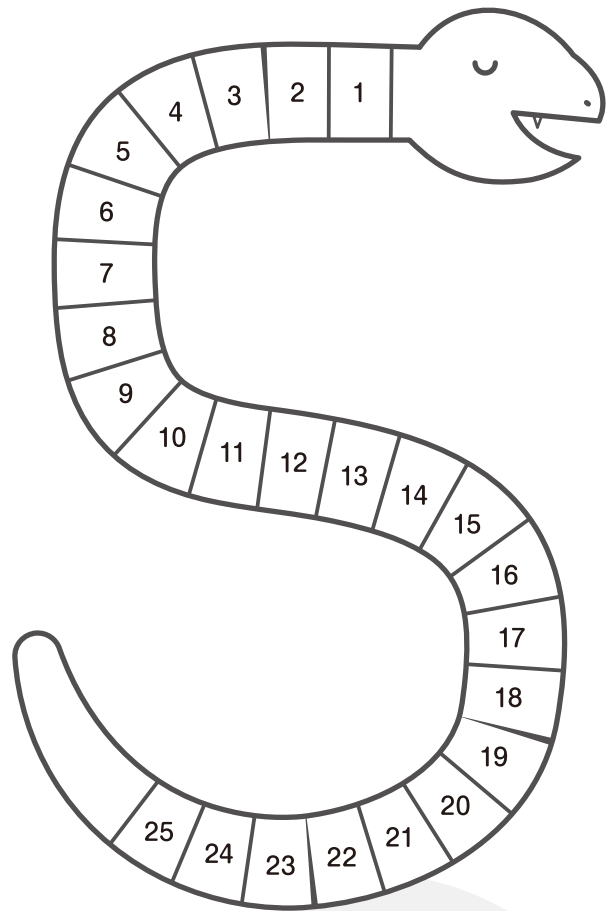
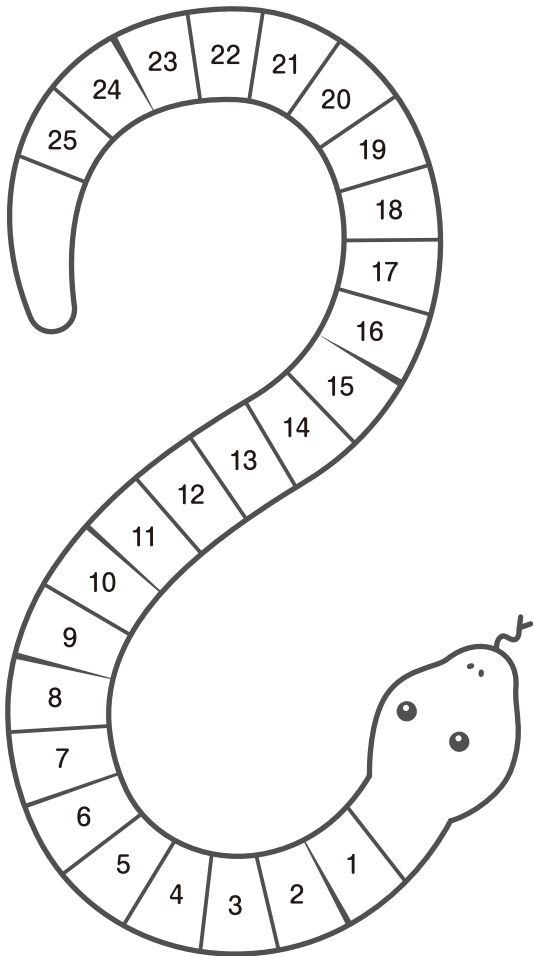


つづく 2つの
 数を ぬりました。
 3つの めいれいに
 こたえました。




つづく 3つの
 数を ぬりました。
 4つの めいれいに
 こたえました。





つづく 4つの
 数をぬりました。
 2つの めいれいに
 こたえました。



つづく 5つの
 数をぬりました。
 3つの めいれいに
 こたえました。



さん すう おう こく
算数パズル王国 シュア こたえ さあ こたえあわせを しよう。

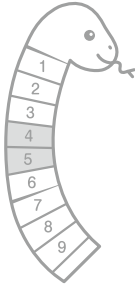
もんだい 1

(1)

合計が **9** に
 なるように ぬること!



つづく 2つの
 数を ぬりました。

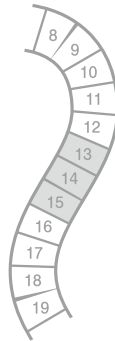


(2)


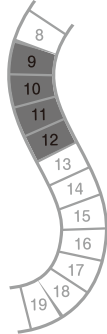
合計が **42** に
 なるように ぬること!



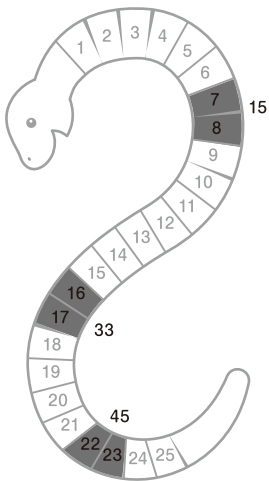
つづく 3つの
 数を ぬりました。



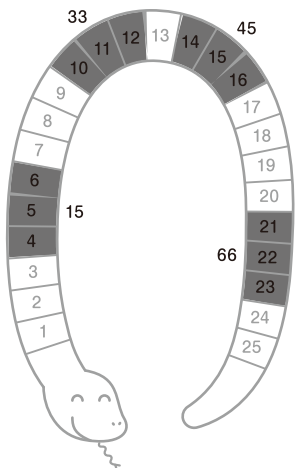
つづく 4つの
 数を ぬりました。



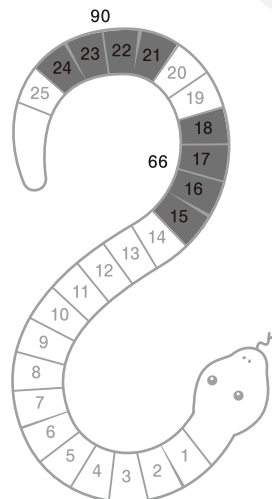
もんだい 2



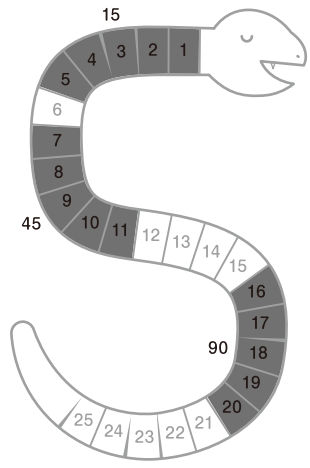
つづく 2つの
 数を ぬりました。
 3つの めいれいに
 こたえました。



つづく 3つの
 数を ぬりました。
 4つの めいれいに
 こたえました。



つづく 4つの
 数を ぬりました。
 2つの めいれいに
 こたえました。



つづく 5つの
 数を ぬりました。
 3つの めいれいに
 こたえました。

