

たの 楽しく かんが 考える

さん すう たん てい だん

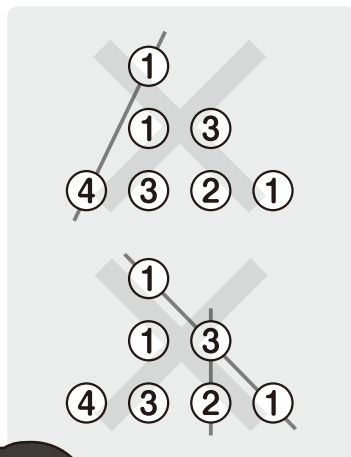
算数パズル探偵団

くしざしパズル

探偵団のメンバーは、だんごを 食べながら お花見を しています。
数字が 書いてある ○を くしに さします。くしを かき入れましょう。

ルール

- ① ○に 書いてある 数字の ごうけいが、きめられた 数に なるように ○に くしを まっすぐ さします。
- ② 1本の くしに さす ○の 数は、2こか 3こです。
- ③ すべての ○を くしに さします。
- ④ くしは たて・横・ななめに させます。たて・横・ななめに となりあっていない ○どうしを さしては いけません。くしの ながは いろいろ あります。
- ⑤ くしと くしが まじわっては いけません。



4+1=5で 5だよ。

1+3+1=5で 5だよ。

3+2=5で 5だよ。



れい どの くしも、○の 数字の ごうけいが 5に なるように さしましょう。

4+1=5で 5だよ。

2+3=5で 5だよ。

1+2+2=5で 5だよ。




2つか 3つの ^{かず}数を たして、
5や 10などの ^{かず}数をつくる ほうほうを ^{かんが}考えよう。





もんだい①

(1) どの くしも、○の ^{すうじ}数字の ごうけいが
5に なるように さしましょう。

① くしは ^{ほん}4本 できたよ。




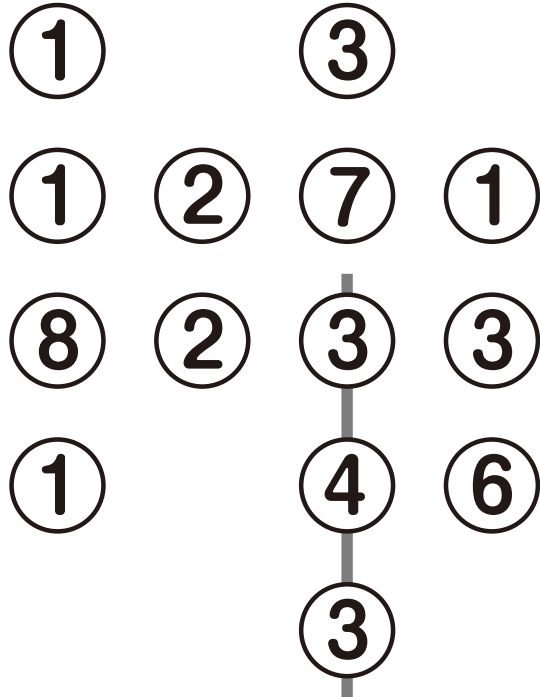

② くしは ^{ほん}5本 できたよ。




(2) どの くしも、○の 数字の ごうけいが 10に なるように さしましょう。

① くしは 5本 できたよ。

⑤



くしは 6本 できたよ。




もんだい②


(1) ○の数字の ぐうけいが それぞれ 5・6・7・8・9・10に なるように、くしを さしましょう。

①


○が 12こで 6つの ぐうけいをつくらないと いけないよ。
1本の くしに さす ○の 数は、2こか 3こだよ。



やよい先輩



②



ホームズ

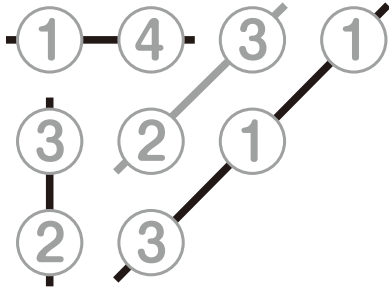
こんどは ○が 13こで 6つの ぐうけいだよ。



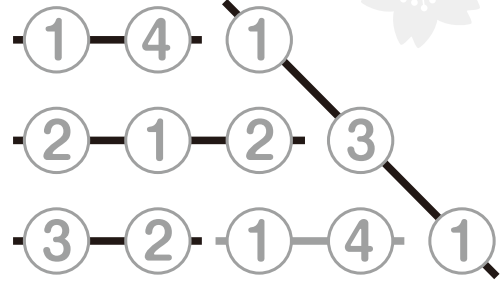
かりんさん

もんだい①

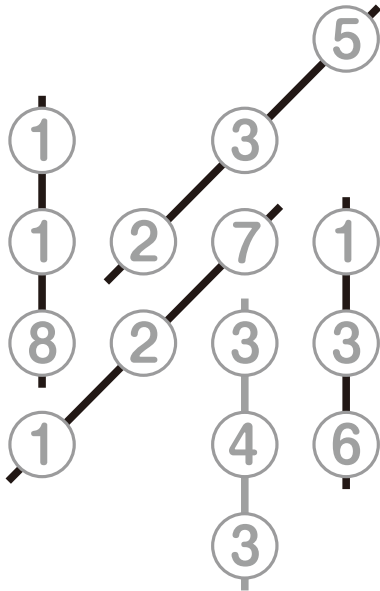
(1) ①



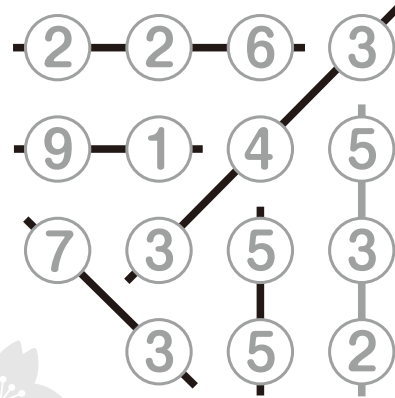
②



(2) ①

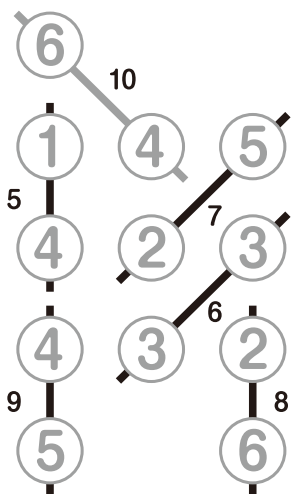


②

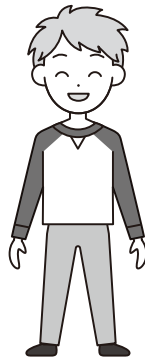


もんだい②

(1) ①



できたかな?



②

