

算数が好きになる

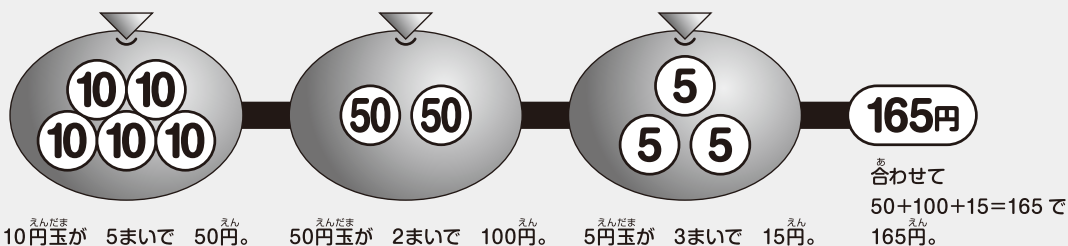
パズル探偵団

コインパズル

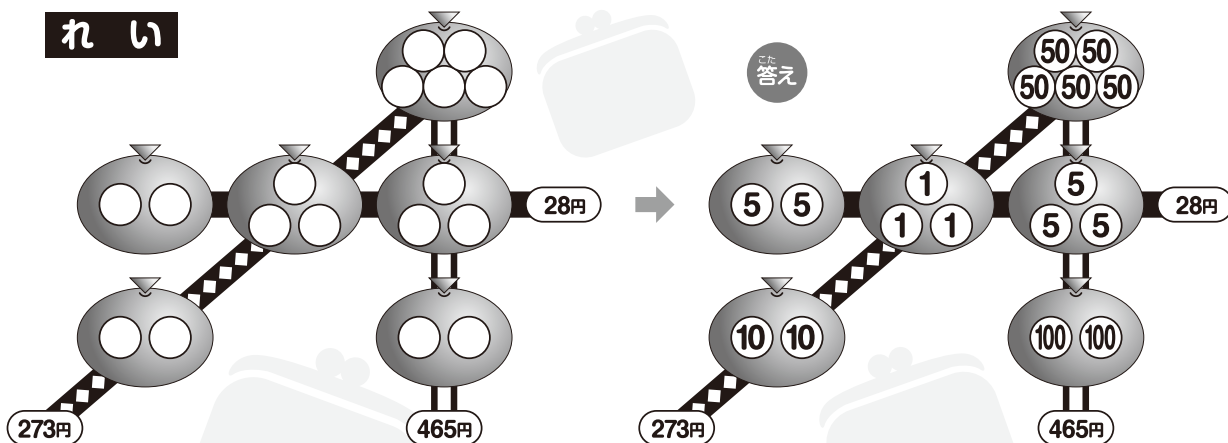
探偵団のかりんさんとあきらは、コインをふくろに入れてならべています。
ルールにしたがって、○に当てはまる数を書きましょう。

ルール

- ① 100 50 10 5 1 の 5しゆりの コインを使います。
- ② 1つのふくろには、同じしゆりのコインを入れます。
- ③ ○には、1つの線でつながっている3つのふくろの中のコインの合計の金がかが書いてあります。



れい



こたえ
合計を 28円、273円にするには、1円玉が何まい必要かな？

ホームズ

28円にするには、どのしゆりのコインを使えばいいかな？
同じしゆりのコインが入っているふくろが、いくつあってもいいんだね。



かりんさん

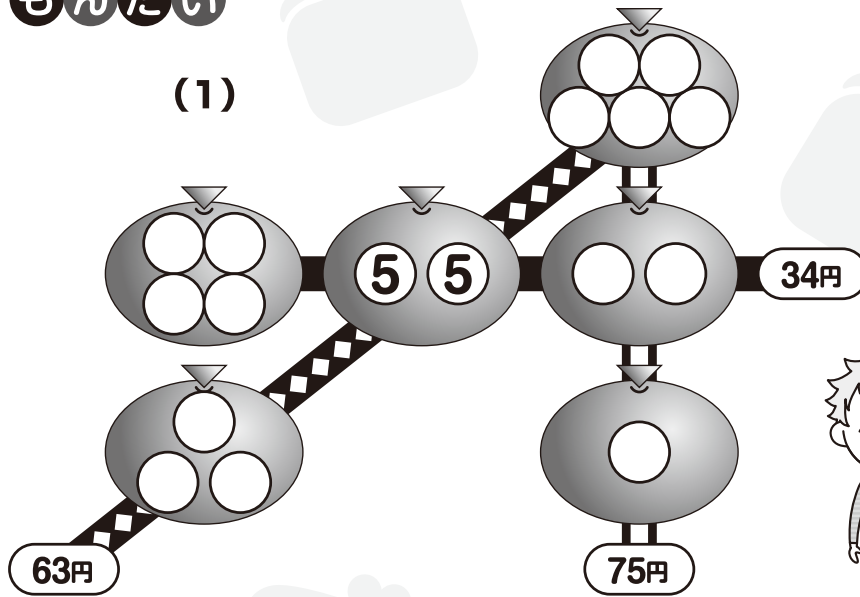


せんぱい
やよい先輩


つか 使う コインの しゅるいを か 変えると、いろいろな もんだい つく 問題を作ることができるよ。
もんだいづく 問題作りにも チャレンジしてみましょう。

もんだい

(1)



かぞく ひと 家族の人たちも、
いっしょに
ちうせん 挑戦してみよう。



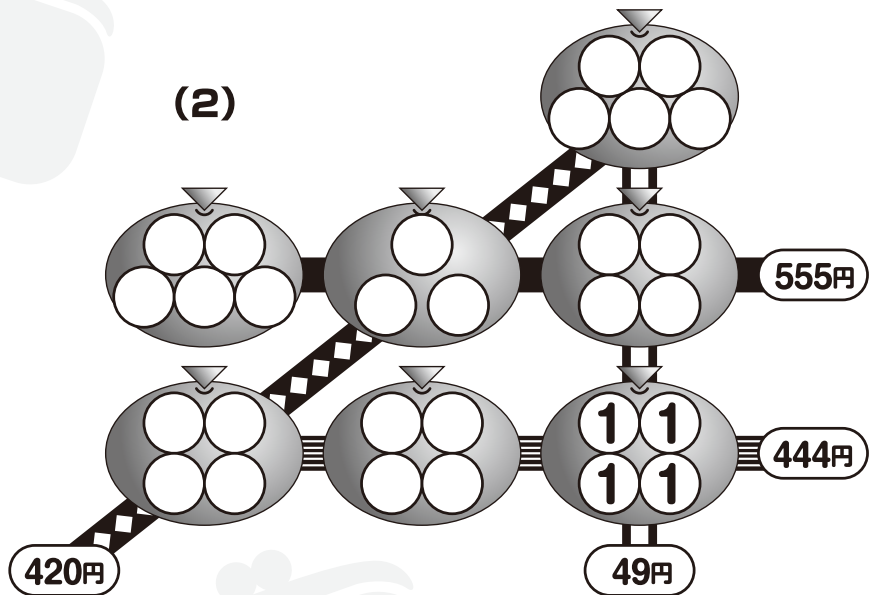
ミャーブル



えん えん 34円の 4円から
かんが 考えてみよう。

あきらさん

(2)



ごうけい えん 合計が 49円に なる線の
のこ 残りの 2つの ふくろに、
どの コインが 入るか
かんが 考えてみよう。

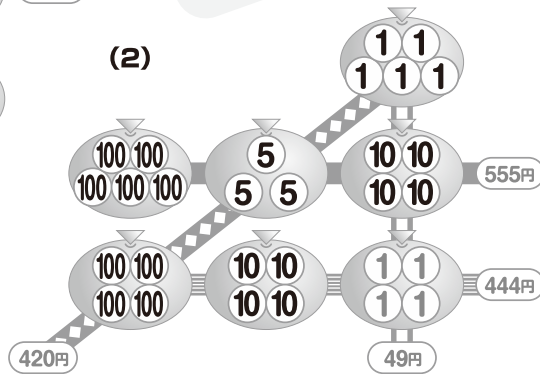
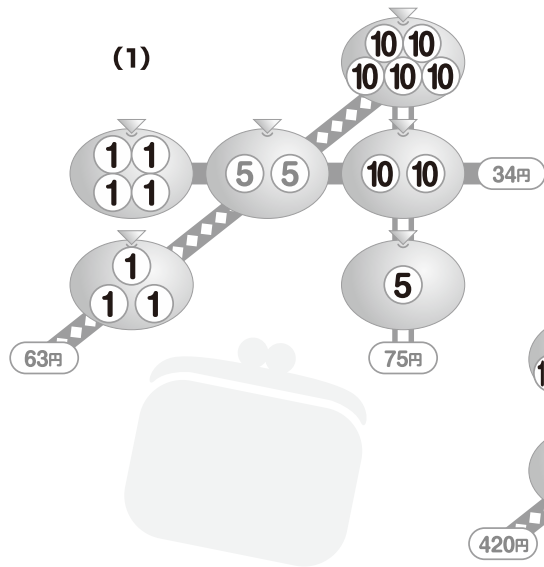


せんぱい
まさと先輩



算数が好きになるパズル探偵団

さあ 答え合わせを しよう。



できたかな?

